

Corso di Calcolatori Elettronici I

Reti Universali

Prof. Roberto Canonico



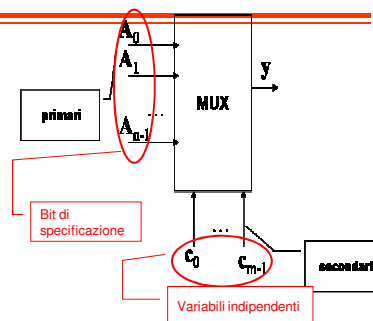
Università degli Studi di Napoli Federico II
 Dipartimento di Ingegneria Elettrica
 e delle Tecnologie dell'Informazione
 Corso di Laurea in Ingegneria Informatica
 Corso di Laurea in Ingegneria dell'Automazione

Reti universali: multiplexer

Reti con multiplexer

- Un multiplexer convoglia sulla uscita y quello fra gli $m=2^n$ "ingressi primari" A_i selezionato dagli n "ingressi secondari" C_j

$$y = \sum_{i=0}^{m-1} A_i \cdot P_i$$



- Ma questa è la forma normale di una funzione delle C_i con P_i mintermini e A_i bit che specificano la funzione. Si ottiene allora una rete universale per funzioni di n variabili ponendo:
 - Ingressi primari = bit di specificazione
 - Ingressi secondari = variabili indipendenti

Multiplexer come generatore di funzioni

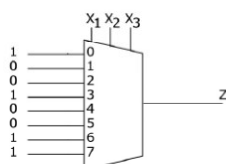


Figura 3.33 - Realizzazione della funzione $z = \sum_3(0, 3, 6, 7)$ tramite multiplexer a otto vie.

da: G. Bucci. Calcolatori Elettronici – Architettura e organizzazione. © McGraw-Hill, 2009

Reti universali: multiplexer con logica folded

Logica “folded”

- Nella forma normale della funzione, mettendo in evidenza i mintermini nelle C_0, C_1, \dots, C_{n-2} , ciascuno di questi risulta moltiplicato per:
 - $\overline{C_{n-1}}$ se non esiste il mintermine in tutte le variabili con C_{n-1}
 - C_{n-1} se non esiste il mintermine con $\overline{C_{n-1}}$
 - 1, se esistono entrambi
 - 0, se non esistono né l'uno né l'altro
- È allora possibile usare un multiplexer con $n-1$ ingressi secondari per generare funzioni di n variabili
 - I bit di specificazione sono uno dei valori $(0, 1, \overline{C_{n-1}}, C_{n-1})$

Reti universali: ROM

Logica ROM-Read Only Memory

- Una ROM implementa la funzione **$MB=M(MA)$**
- Se MA è di n bit
- e la memoria ha parallelismo di m bit
- Si realizzano m funzioni di n variabili
- I contenuti della memoria (colonne di tabelle di verità) sono
 - specificati dall'utente
 - realizzati dal costruttore "bruciando" i collegamenti fra linee orizzontali e verticali

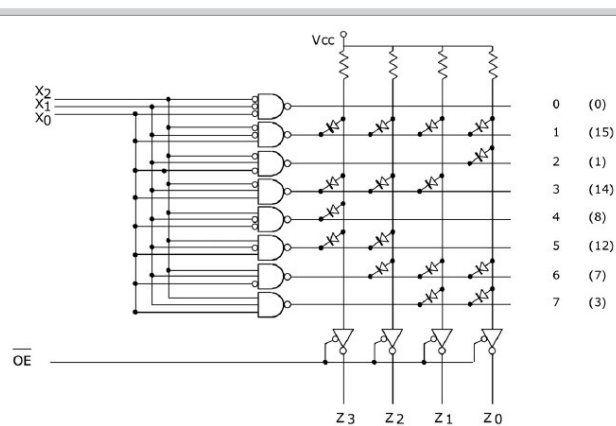
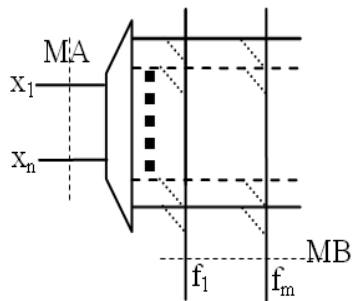


Figura 3.38 - Schema di una ROM di otto posizioni di 4 bit. A destra viene riportato l'indirizzo di ciascuna cella e, tra parentesi, il suo contenuto. Per capirne il funzionamento si consideri, per esempio, il caso in cui l'indirizzo $x_2x_1x_0$ sia 2. In tal caso solo la riga 2 della matrice è asserita bassa, per cui la tensione sull'anodo del diodo a essa collegato (colonna z_0) risulta bassa (il diodo ha una caduta di tensione trascurabile). Gli altri diodi sulla colonna z_0 risultano interdetti. I diodi sulle restanti colonne sono in conduzione, ma la tensione sui loro anodi è alta essendo alta la tensione su tutte le righe diverse dalla 2. Si noti che la memoria ha un segnale di abilitazione delle uscite.

da: G. Bucci. Calcolatori Elettronici – Architettura e organizzazione. © McGraw-Hill, 2009

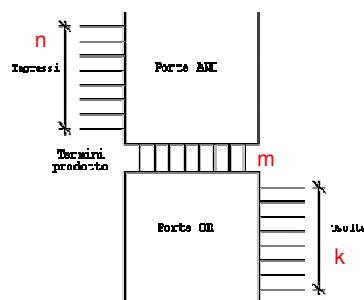
Reti universali: PLA

PLA – Programmable Logic Array

- Fanno parte della più ampia classe dei “Dispositivi Logici Programmabili”
- Realizzare k funzioni di n variabili in forma and-or a 2 livelli

$$f_j = \sum_{i=1}^m a_{ij} \cdot \gamma_i \quad a_{ij} = 0,1; i \in [1,m], j \in [1,k]$$

- 2 sezioni
 - AND: realizza le m clausole
 - OR: realizza le k sommatorie
 - Le specifiche (γ_i e a_{ij})
 - fornite da utente
 - realizzate dal costruttore attivando i collegamenti per le AND e le OR



PLA

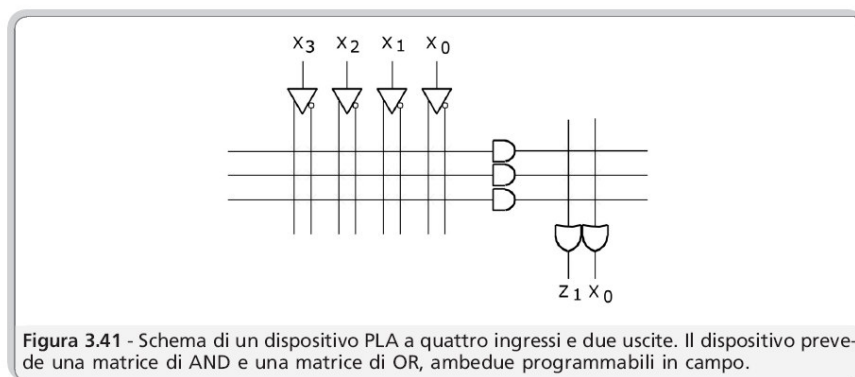


Figura 3.41 - Schema di un dispositivo PLA a quattro ingressi e due uscite. Il dispositivo prevede una matrice di AND e una matrice di OR, ambedue programmabili in campo.